

## آنلاک لرننگ ورک شیٹ

شکشا مترا سے اشتراک کے ساتھ

بچوں کے والدین اور اساتذہ کے نام: اس ورک شیٹ کو بنانے کا اصل ہدف یہی ہے کہ بچے خود سے سوچیں اور جواب دیں۔ جب آپ بچے کے استعمال شدہ شیٹ کو دیکھیں تو آپ غلط جواب پر دھیان نہ دیں بلکہ اس پر سوچیں کی بچے نے جواب کیسے دیا ہے۔ ان ورک شیٹس کو اس لحاظ سے ڈیزائن کیا گیا ہے کہ اس کو استعمال کرنے والا کسی بھی قسم کی قید سے آگے بڑھ کر آزادانہ طور پر جواب دے۔ عام طور سے جوابات مختلف ہو سکتے ہیں، ہم چاہتے ہیں کہ آپ سکھنے والے سے بات چیت کریں کہ آخر اس نے ایسا جواب کیوں دیا۔ آپ بچے کو تصور (imagine) کرنے کی پوری آزادی دیں اور وہی لکھنے کے لیے کہیں جو چیز اس کے ذہن میں آرہی ہے۔

ہم آپ کی رائے کا استقبال کرتے ہیں۔ اگر ورک شیٹ میں کوئی بھی چیز مشکل ہے تو ہم اپنے کام کو آپ کی مدد سے اور آسان اور خوبصورت کریں گے۔



## ماسک کے بارے میں معلومات



## ماسک کے بارے میں معلومات

انگریزی میں اسے 'Mask' کہا جاتا ہے۔

اردو میں اسے 'ماسک' اور عربی میں اسے 'قناع' کہا جاتا ہے۔

کیا آپ اردو میں 'ماسک' لکھ سکتے ہیں؟

اب عربی میں 'قناع' لکھیں

کیا آپ سوچ سکتے ہیں کہ لوگ ماسک کا استعمال کیوں کرتے آئیں ہیں؟

اپنی زبان میں ماسک لکھیں

## نظم

درجہ ذیل نظم کی خالی جگہ کسی بھی زبان کے ہم قافیہ الفاظ (rhyming words) سے مکمل کریں۔

1۔ میں نے ایک خوبصورت ماسک بنایا۔

2۔ یہ ضرور مشکل تھا۔

3۔ کتنا مشکل تھا؟ پلینز نہیں۔

4۔ میں فخر سے اپنا نیا ماسک پہنتی ہوں۔

5۔ جب بھی میں میٹھی کافی پیتی ہوں، اپنے۔

6۔ اور، پورے لطف میں، میں خوشی سے۔

ہم سب ماسک پہنتے ہیں!

کسی بھی شخص کو ماسک پہن کر کیسا محسوس ہوتا ہے؟ تصویر بنائیں۔



## جذبات: چھپائیں یاد کھائیں؟

درجہ ذیل کچھ الفاظ کی فہرست ہے۔ ان کو اونچا پڑھیں۔

خوشی \_\_\_\_\_ غصہ \_\_\_\_\_ ہنسی \_\_\_\_\_ ڈر \_\_\_\_\_ بوریٹ \_\_\_\_\_ شوق \_\_\_\_\_  
اداسی \_\_\_\_\_ اختلاف \_\_\_\_\_

آپ ان کو کس فہرست میں ڈالیں گے؟

جذبات دکھائیں	جذبات چھپائیں

ان الفاظ کے گرد دائرہ بنائیں جن کا ماسک سے کوئی تعلق نہیں۔

رابطہ

ڈھال

حفاظت

بہروپ

انعام

سجانا

تقسیم

بحث

تبدیل

پردہ

روک تھام

ہضم

ورزش

چھپانا

سنوارنا

## ماسک کے بارے میں مزید معلومات:

ماسک اس لیے پہننا چاہیے:


- (1)
- (2)
- (3)

آپ نے ماسک کا استعمال کہاں ہوتے دیکھا ہے؟ اپنے خیالات کا اظہار کریں:

-----

-----

-----



اپنا ماسک پہنیں۔ یہ آپ کے چہرے کے کس حصے کو ڈھانپتا ہے؟ دائرہ بنائیں۔

نٹھنا	کوہنی	ران	گال
ہونٹ	ہونٹ	انگلیوں کے جوڑے	دانت
ہونٹ	کوہنی	مسکراہٹ	ٹھوڑی
ہونٹ	کوہنی	مسکراہٹ	ٹھوڑی

پیش کش: ٹیچان اردو

1- کیا آپ نے کورونا سے پہلے کبھی ماسک پہنا تھا؟

2- آپ کے گھر میں سب سے زیادہ دیر کون ماسک پہنتا ہے؟

'ماسک' کے مترادف الفاظ کو اسم یا فعل کے طور پر استعمال کیا جاتا ہے۔ دیئے گئے جملوں میں ظاہر کریں کہ خط کشیدہ الفاظ اسم (noun) یا فعل (verb) ہیں۔

- 1) اپنے جذبات نہ چھپاؤ، بتاؤ مجھے کہ تم ابھی کیا سوچ رہے ہو۔
- 2) اگلے ہفتے فینسی لباس کی محفل پر تم نے کونسا ماسک پہننے کا سوچا ہے؟
- 3) نقاش کھڑکیوں اور کونوں کے ارد گرد بہت صاف کام کر سکتے ہیں اگر وہ ٹیپ کے استعمال سے سطح کو ڈھک دیں۔
- 4) آخر میں ڈائریکٹر صاحب اداکارہ کو بے نقاب کریں گے تاکہ ہم سمجھ سکیں کہ ہیرو کا کردار کس نے ادا کیا۔

کسور

درجہ ذیل کسور حل کریں:

$$\frac{1}{3} = \frac{7}{21} = \frac{15}{45} = \frac{36}{36} = \frac{21}{36} = \frac{27}{27}$$

$$\frac{2}{7} = \frac{21}{21} = \frac{14}{42} = \frac{18}{84} = \frac{18}{84}$$

$$\frac{3}{8} = \frac{24}{64} = \frac{21}{72} = \frac{21}{72}$$

$$\frac{21}{36} = \frac{35}{84} = \frac{77}{120} = \frac{77}{120}$$

$$\frac{8}{11} = \frac{24}{88} = \frac{40}{132} = \frac{80}{132} = \frac{80}{132}$$



درجہ ذیل کسور کو آسان بنا کر ماسک کورنگیں:



7/9 = سیاہ 7/12 = سبز 8/11 = جامنی 5/6 = نارنجی

### درجہ ذیل عبارت پڑھیں:

سندر بن دریائے گنگا کے کنارے پر واقع ہے اور یہ 100 سے زائد بنگالی شیروں کا گھر ہے۔ یہ ایک علاقے میں شیروں کی واحد سب سے بڑی آبادی ہے۔ یہ شیر بہت بڑی، بہت طاقتور مخلوق ہیں جو انسانوں کو کھانے کے لیے مشہور ہیں۔ اس طوفان زدہ مینگروز کے علاقے میں، جو ہندوستان اور بنگلہ دیش کے درمیان بٹا ہوا ہے، انسان اور شیروں کو ایک دوسرے کے بہت قریب رہنا پڑتا ہے۔

مقامی دیہاتی بہت امیر نہیں ہیں، اور وہ ماہی گیری، شہد جمع کرتے، اور اپنا کھانا پکانے کے لئے لکڑی جمع کرتے ہیں۔ اس سب کے لیے انھیں جنگل اور ساحلی علاقوں میں جانا پڑتا ہونے ہے، جہاں بنگالی شیر رہتے اور شکار کرتے ہیں۔ سرکاری افسران ان کو حملے سے بچانے کے لئے جو کچھ کر سکتے ہیں، وہ کرتے ہیں۔ مقامی ماہی گیر مہمات پر جانے سے پہلے جنگل کی دیوتا بون بیبی کی عبادت کرتے اور رسومات ادا کرتے ہیں۔ دیوی داکشن رائے کی عبادت کو بھی سندر بن کے مقامی لوگوں کی محفوظ نقل و حرکت کے لئے ضروری سمجھا جاتا ہے۔ ماہی گیروں اور بوش مینوں نے اس لیے سروں کے پیچھے پہننے کے لئے ماسک تیار کیے، جو چہروں کی طرح نظر آتے تھے، کیونکہ شیر ہمیشہ پیچھے سے حملہ کرتے ہیں۔ یہ ایک مختصر عرصے کے لئے کام آیا، لیکن شیروں کو جلد ہی معلوم ہو گیا کہ یہ ایک دھوکہ ہے، اور مبینہ طور پر یہ حملے جاری رہے۔

ایک مقامی شہد جمع کرنے والی، 57 سالہ سریندر جننا نے اظہار کیا کہ ایسا لگتا ہے کہ شیروں نے ماسک کی چال کو پکڑ لیا ہے، "اس سے پہلے ہم ان کے حملہ کرنے کے طریقے کو سمجھ جاتے تھے۔ مگر اب ہم محفوظ محسوس نہیں کرتے، یہ جانتے ہوئے کہ ہماری چالوں کے باوجود ہمارے بھائیوں پر حملہ ہوا ہے۔" سرکاری اہل کار اب علاقے میں محفوظ رہنے کے لیے سخت پیڈ پہنتے ہیں جو گردن کے پچھلے حصے میں اوپر اٹھتے ہیں۔ یہ شیروں کو ریڑھ کی ہڈی میں کاٹنے سے روکنے کے لئے ہیں، جہاں وہ عام طور پر حملہ کرتے ہیں۔



کتنا اچھا سمجھا آپ نے؟ یہ فقرے مکمل کریں:

(1) شیر اور سندر بن کے دیہاتی

(2) ہم اپنے چہروں پر ماسک پہنتے ہیں، لیکن ماہی گیر

(3) چہرے جیسے دکھنے والے ماسک

(4) بنگالی شیر \_\_\_\_\_ ہیں۔ وہ حملہ \_\_\_\_\_ پر کرتے

اور \_\_\_\_\_ کاٹتے ہیں۔

(5) سندر بن کے لوگ ان ذریعوں سے تحفظ کے خواہاں ہیں: \_\_\_\_\_،

\_\_\_\_\_ اور \_\_\_\_\_

(6) اس کے لیے بہترین عنوان کون سا ہے؟ اسے نیچے اپنی سب سے اچھی لکھاؤٹ میں لکھیں:

(a) سندر بن کی زندگی

(b) سندر بن کے شیروں کے ساتھ زندگی

(c) بنگالی شیر

(7) کیا آپ کوئی اور طریقے سوچ سکتے ہیں جس سے انسان شیر کے حملوں سے اپنے آپ کو بچا سکتے ہیں؟

## سندر بن کے اوپر مزید معلومات: ذرا سوچئے!

فہم سے بالاتر ہو کر اپنے نظریات کے بارے میں بات کریں۔ ذیل میں دیئے گئے سوالوں کی خود سے وجہ بتائیں۔

(1) سرکاری اہلکار سخت، سخت حفاظتی پیڈ والے لباس پہنتے ہیں۔ گاؤں والے کیوں نہیں؟

---

---

---

(2) شیر انسانوں کو کیوں کھاتے ہیں؟

---

---

---

## ذخیرہ الفاظ:

مترادف الفاظ کے گرد دائرہ بنائیں۔ لغت کا استعمال منع ہے۔

مینگر وو	آم کا درخت	پانی پر اگنے والی گھاس	شمکین پانی میں درخت
چکما	مذاق	کھیل	کہانی
قدیم حالت	اچھوت	بھیرڑدہ	خراب
درخواست	نغمہ	بلانا	نوکری
ساحلی	دلچسپ	ڈراؤنا	سمندر کے نزدیک

## میری کھڑکی سے باہر




اپنے لاک ڈاؤن کے تجربے سے باخبر رہنا

(1) لکھیں یا تصویر بنائیں کہ لاک ڈاؤن کے دوران آپ کیا نیا دیکھ رہے ہیں۔

(2) لکھیں یا تصویر بنائیں ان لوگوں کی جن کو آپ لاک ڈاؤن کے دوران نہیں دیکھ سکے۔

وین ڈایا گرام آپ کو دو چیزوں، واقعات یا لوگوں سے موازنہ کرنے میں مدد کرتی ہے۔ وین ڈایا گرام کا استعمال کرتے ہوئے آپ چیزوں میں فرق اور مماثلت کر سکتے ہیں۔ یہ چیزوں کو سمجھنے اور مسائل کو بھی حل کرنے میں ہماری مدد کرتی ہے!



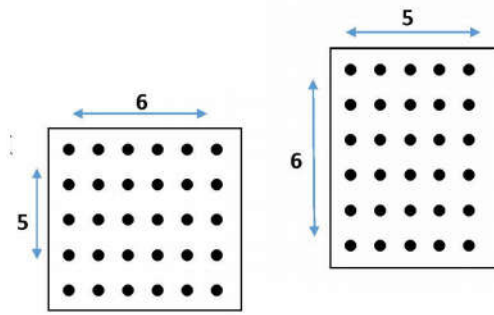
## ماسک بنانا اور فروخت کرنا-1

ہم جانتے ہیں کہ  $150 = 5 \times 30$  ہوتا ہے۔ مگر کیسے؟  
ریاضی کو دیکھیں:

$$30 = 5 + 5 + 5 + 5 + 5 + 5$$

یا

$$30 = 6 + 6 + 6 + 6 + 6$$



تصویر کی مثال لیجیے:

آپ کے محلے کے بچوں میں ماسک کی کمی ہے۔ آپ اور آپ کے دوستوں نے ماسک بنانے کا فیصلہ کیا جو آپ کے پڑوسی کو بہت پسند آیا۔ انہوں نے آپ کو  $13 \times 10$  کا کپڑا دیا۔ ہر ماسک  $3 \times 5$  کا ہو گا۔

- 1) آپ اس کپڑے کے ٹکڑے سے بچوں کے کتنے ماسکس بنا سکتے ہیں؟  
2) بچوں کے ماسک بنانے کے لیے درج ذیل کی ضرورت ہوگی:

الاسٹک: 18 روپے

کپڑا: 25 روپے

دھاگا: 13 روپے

پوری قیمت کیا بنتی ہے؟

ایک مقامی کلب کو آپ کا آئیڈیا پسند آیا ہے اور آپ سے 40 ماسک بنانے کے لئے کہہ رہا ہے۔ ہر ماسک 12 روپے کا ہے۔ کلب آپ کے ماسک کے لیے کل رقم کتنی ادا کرے گا؟

## ماسک بنانا اور فروخت کرنا-2

ریاضی کا علم بڑھائیں

آپ کو کپڑا کا ایک ٹکڑا  $78 \times 54$  ملتا ہے جو 80 روپے کا ہے۔

ریاضی کریں:

(1) آپ اس کپڑے کے ٹکڑے سے کتنے  $4 \times 8$  ماسکس بنا سکتے ہیں؟

(2) ایک ماسک کو ڈور کے ساتھ بنانے کی قیمت 1.50 ہے۔ سارے ماسک بنانے کی کیا قیمت

ہے؟

(3) اگر آپ دو خانے پر جا کر ہر ماسک 5 روپے کا بیچیں، تو دکاندار آپ کو کتنے پیسے دے

گا؟

اگر دکاندار ہر ماسک 20 روپے کا بیچے، تو وہ کتنا منافع کمائے گا؟

